





Altı

Kaç tane nar var? Parmağımızla sayalım. 6 rakamının içindeki okları parmağımızla takip ederek 6 rakamını çizelim.



Yukarıdaki görsellerden altı tane olanları bulalım, çember (O) içine alalım.



# Çizgi Çalışması



Kesik çizgileri kalemimizle çizerek tamamlayalım.