




Sayalım


Sayı


Aşağıdaki görselleri inceleyelim. Her gruptaki hayvanları sayalım, kaç hayvan var ise yan tarafındaki uygun rakamı işaretleyelim.

| | |
|---|------------------------------------|
|  | 1 3 5 2 4 6 |
|---|------------------------------------|

| | |
|---|------------------------------------|
|  | 1 3 5 2 4 6 |
|---|------------------------------------|

| | |
|---|------------------------------------|
|  | 1 3 5 2 4 6 |
|---|------------------------------------|

| | |
|---|------------------------------------|
|  | 1 3 5 2 4 6 |
|---|------------------------------------|

| | |
|---|------------------------------------|
|  | 1 3 5 2 4 6 |
|---|------------------------------------|

Şekilli Hareketler

Aşağıdaki görselleri dikkatle inceleyelim. Sırayla karenin üçgenin, dairenin içindeki çocukların hareketlerini yapalım ve duralım. Daha sonra uzanarak vücudumuzu dinlendirelim.

